

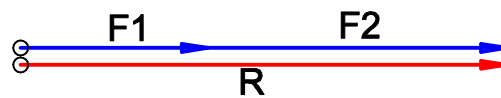
LINEARES KRAFTSYSTEM

BEISPIEL:

GEG: $F_1=2,5\text{kN}$
 $F_2=4\text{kN}$

GES: R mittels grafischer Methode

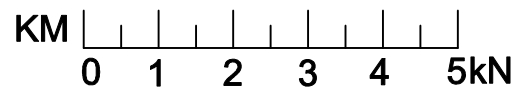
KRAFTSYSTEM



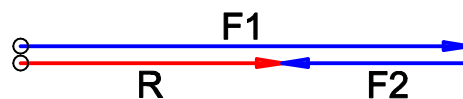
BEISPIEL:

GEG: $F_1=6\text{kN}$
 $F_2=-2,5\text{kN}$

GES: R mittels grafischer Methode



KRAFTSYSTEM



STATIK

KULLE G.

LINEARES
KRAFTSYSTEM

KM 1kN=1cm

2007/08

BLATT: 1